


Вопросы конкурса «Человек и природа» для 5-6 классов
(конкурс прошёл 7 апреля 2015 года)

Задания, оцениваемые в 3 балла

1. Какое из перечисленных государств располагается сразу в двух частях света, одна из которых Европа?

- А) Иран; Б) Украина; В) Россия; Г) Финляндия; Д) Армения.

2. На рисунках изображены флаги европейских государств. На каком рисунке изображён флаг Франции?



А




Б



В



Г



Д

3. Ветви какого растения чаще всего изображаются на гербах европейских стран?

- А) оливы; Б) лавра; В) пальмы; Г) граната; Д) дуба.

4. На фотографии - одна из главных достопримечательностей столицы ...

- А) Италии; Б) Франции; В) Дании;
Г) Великобритании; Д) Нидерландов.



5. В сказке английского писателя Л. Кэрролла «Приключения Алисы в стране Чудес» читаем:
«А горчица-то не птица! – сказала Алиса.

... - Горчица – это, кажется, минерал, - продолжала размышлять вслух Алиса.

... Ой, вспомнила! – закричала Алиса. Это фрукт!»

А на самом деле горчица – это ...

- А) птица; Б) минерал; В) фрукт; Г) трава; Д) ягода.

6. Первая в мире паровозная железнодорожная линия была построена и открыта в 1825 году в ...

- А) Германии; Б) Англии; В) России; Г) США; Д) Финляндии.

7. Победитель Олимпийских игр Древней Греции назывался ...

- А) олимпиадник; Б) олимпиец; В) олимпионик; Г) элланодик; Д) чемпион.

8. Какой природной зоны нет в Европе?

- А) тайги; Б) тундры; В) степи; Г) арктической пустыни; Д) саванны.



9. На картине Василия Сурикова отражён эпизод перехода армии

А. В. Суворова через ...

- А) Урал; Б) Карпаты;
В) Кавказ; Г) Альпы;
Д) Пиренеи.

10. Во многих странах Восточной Европы любят толокняную кашу. Крупу для неё делают из ...

- А) пшеницы; Б) овса; В) картофеля; Г) арахиса; Д) проса.

Задания, оцениваемые в 4 балла

11. Этот цветок считают символом Франции.



А

Б

В

Г

Д

12. Как называются плод бука?

- А) зерновка; Б) шишка; В) орех; Г) стручок; Д) коробочка.

13. В Альпах берёт начало река ...

- А) Сена; Б) Днепр; В) Рейн; Г) Висла; Д) Гаронна.

14. Лапландия – культурный регион на севере Европы, располагается на территории перечисленных государств, кроме ...

- А) Финляндии; Б) Швеции; В) Норвегии; Г) Исландии; Д) России.



15. На фрагменте картины знаменитого Рембрандта «Похищение Европы» Зевс в образе быка увозит Европу на остров ...

- А) Крит; Б) Кипр; В) Сардинию;
Г) Родос; Д) Хиос.

16. Солнечная энергия преобразуется в электрическую с помощью ...

- А) батарей центрального отопления; Б) солнечных батарей;
В) солнечных зайчиков; Г) аккумуляторов; Д) генераторов.

17. На территории какого современного европейского государства расположен вулкан, в результате извержения которого в 79 году были уничтожены несколько городов?

- А) Испании; Б) Норвегии; В) Австрии; Г) Черногории; Д) Италии.

18. На территории Рейнских Сланцевых гор часто можно встретить небольшие округлые, сравнительно глубокие озёра. Каково их происхождение?

- А) ледниковое; Б) вулканическое;
В) моренное; Г) карстовое; Д) речное.



19. Что делают озёрные лягушки, когда зимой на озере замерзает лёд?

- А) выползают на сушу; Б) зарываются глубоко в ил; В) мигрируют в тёплые страны;
Г) впадают в спячку под водой; Д) плавают подо льдом.

20. Знаменитый Океанографический музей располагается в одном из карликовых государств Европы.

- А) Сан-Марино; Б) Лихтенштейн; В) Ватикан; Г) Монако; Д) Андорра.

Задания, оцениваемые в 5 баллов

21. Как называли древние славяне море, изображённое на карте?

- А) Варяжское; Б) Северное; В) Море заката;
Г) Шведское; Д) Белое.

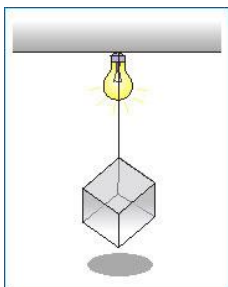


22. На какой реке в апреле 1945 года произошла историческая встреча советской и американской армий в ходе Второй мировой войны?

- А) Эльба; Б) Рейн; В) Дунай; Г) Одер; Д) Везер.

23. У Александра Сергеевича Пушкина есть строки: «Зачем ты, грозный аквилон, тростник болотный к долу клонишь?». Аквилон – это ...

- А) северо-восточный ветер; Б) сенокосец; В) вооружённый всадник;
Г) западный ветер; Д) ливень.



24. Куб подвешен за вершину над гладким столом. Лампочка находится вертикально над кубом. Какой формы будет тень на столе?

- А) треугольник; Б) квадрат;
В) прямоугольник; Г) пятиугольник;
Д) шестиугольник.

25. Воды какого моря не омывают берега Скандинавского полуострова?

- А) Балтийского; Б) Северного; В) Норвежского; Г) Баренцева; Д) Белого.

26. Это растение во многих странах Европы до появления картофеля было одной из основных пищевых культур.



А



Б



В



Г



Д

27. Эта широко распространённая культура была выведена в Германии в XVIII веке.

- А) брюква; Б) кольраби; В) земляная груша; Г) сахарная свёкла; Д) твёрдая пшеница.

28. На способность некоторых средиземноморских растений переживать частые пожары не влияет...

- А) толстый покров плодов;
Б) яркая окраска цветков;
В) содержание в коре огнеупорных веществ;
Г) способность к возобновлению роста из луковиц;
Д) способность к возобновлению роста из придаточных почек у основания корня.

29. Знаменитый английский натуралист Джеральд Даррелл в книге «Моя семья и другие звери» писал об острове Керкира: «...перед нами открылся остров. Горы его как будто спали под скомканным бурым одеялом, в складках зеленели оливковые рощи. Среди беспорядочного нагромождения сверкающих скал золотого, белого и красного цвета бивнями изогнулись белые пляжи. ... Кое-где к небу указующим перстом поднимался темный кипарис».

Этот остров - часть ...

А) Польши; Б) Великобритании; В) Финляндии; Г) Латвии; Д) Греции.

30. Этот зверёк появился в Европе лишь в XX веке.



А



Б



В



Г



Д