

ЧИП-2016 (Азия)  
3 – 4 классы

Задания, оцениваемые в 3 балла

1. Какое из перечисленных государств располагается сразу в двух частях света, одна из которых Азия?  
А) Индия;      Б) Китай;      В) Россия;      Г) Монголия;      Д) Узбекистан.

2. С востока Азию омывает ... океан.

А) Атлантический;      Б) Индийский;      В) Северный Ледовитый;      Г) Тихий;      Д) Южный.


3. На севере азиатской части России широкой полосой протянулась тундра. На каком рисунке изображена тундра?



4. Горная система, расположенная вдоль западной границы Азии, называется ...

А) Алтай;      Б) Гималаи;      В) Урал;      Г) Тянь-Шань;      Д) Памир.

5. Какое из этих животных обитает только в Азии?




6. В «Книге Джунглей» Киплинга читаем: «Стройная тень скользнула в кольцо волков. Это была Багира, чёрная ..., вся чёрная, как чернила, но с пятнами, видными как водяные клейма при известном освещении». Багира это ...

А) пантера;      Б) тигрица;      В) львица;      Г) пума;      Д) рысь.

7. Верный спутник легендарного Ходжи Насреддина.

А) конь;      Б) осёл;      В) верблюд;      Г) рикша;      Д) вол.

8. В книге «Из Сибири» А. П. Чехов писал: «...в тайге живут медведи, волки, сохатые, соболи и дикие козы». На какой картинке изображён зверь, названный писателем «сохатый»?



9. Эта деятельность человека не наносит вреда природе:

- А) мелиорация;      Б) добыча полезных ископаемых;      В) создание заповедников;  
Г) прокладка трубопроводов;      Д) строительство электростанций.



10. Головной убор на рисунке называется:

- А) тибетейка;      Б) камилавка;      В) фреска;      Г) ермолка;      Д) феска.

### Задания, оцениваемые в 4 балла

11. Какое утверждение верно?

- А) Экватор делит Азию на две равные части.  
Б) Азия расположена полностью в Северном полушарии.  
В) Большая часть Азии расположена в Северном полушарии.  
Г) Азия расположена полностью в Южном полушарии.  
Д) Большая часть Азии расположена в Южном полушарии.

12. На бумажных куколках национальные костюмы ...

- А) Китая;      Б) Вьетнама;      В) России;      Г) Индии;      Д) Японии.



13. Азию от Америки отделяет ... пролив.

- А) Гибралтарский;      Б) Магелланов;      В) Гудзонов;      Г) Берингов;      Д) Санникова.

14. Эта зерновая культура, большая часть которой выращивается в Азии, является основой для питания у многих народов мира.

- А) овёс;      Б) рис;      В) киноа;      Г) кукуруза;      Д) рожь.

15. Плод, который вы видите на фотографии, привычен жителям на юге Азии. Это ...


- А) манго;      Б) авокадо;      В) папайя;      Г) дыня;      Д) маракуйя.



16. Крупнейшие реки азиатской части России – Обь, Енисей, Лена – текут ...

- А) с севера на юг;      Б) с юга на север;      В) с востока на запад;      Г) с запада на восток;      Д) к озеру Байкал.

17. Какой цветок является национальным символом Индии?



18. Хозяйка медной горы в сказах П.П. Бажова превращалась в ящерицу. На какой картинке изображено это пресмыкающееся?



19. В старину Русь торговала со многими странами «мягкой рухлядью», большая часть которой поступала из Сибири. Это – ...


- А) валенки;    Б) пушнина;    В) золото;    Г) чёрная икра;    Д) шерсть.

20. На картине Василия Васильевича Верещагина вы видите караван вьючных животных. Это ...

- А) яки;    Б) мулы;    В) ослы;    Г) волы;    Д) ламы.



### Задания, оцениваемые в 5 баллов



21. На картине Василия Васильевича Верещагина изображён знаменитый мавзолей Тадж-Махал, который называют архитектурной жемчужиной

- А) Узбекистана;    Б) Туркменистана;    В) Бангладеш;  
Г) Китая;    Д) Индии.

22. Ценный природный краситель – пурпур научились добывать жители ...

- А) Японии;    Б) Древнего Китая;    В) Древнего Рима;    Г) Финикии;    Д) Ассирии.

23. Посёлок Оймякон в Якутии является ...

- А) северным полюсом холода;    Б) географическим центром России;    В) самой низкой точкой Азии;  
Г) столицей Якутии;    Д) географическим центром Сибири.

24. Во многих районах Китая тысячелетиями разводят тутовые деревья, в основном, для ...

- А) заготовки дров;  
Б) выращивания гусениц;  
В) производства варенья из ягод;  
Г) откорма скота;  
Д) использования в живых изгородях.



25. Эти российские гидроэлектростанции расположены в Сибири и входят в десятку самых мощных ГЭС мира, кроме ...

- А) Красноярской;    Б) Братской;    В) Саяно-Шушенской;  
Г) Саратовской;    Д) Усть-Илимской.

