

Задания, оцениваемые в 3 балла

1. На каком изображении глобуса видна вся Азия?



2. С юга Азию омывает ... океан.

А) Атлантический; Б) Тихий; В) Северный Ледовитый; Г) Индийский; Д) Южный.

3. Государство в Азии, имеющее самое большое по численности население, называется...

А) Китай; Б) Россия; В) Индия; Г) Казахстан; Д) Индонезия.

4. Значительная территория Азии занята степью. Степь изображена на рисунке...



5. В сказке Редьярда Киплинга «Рикки-Тикки-Тави» в борьбе со змеями людям помогал этот маленький хищный зверёк:

А) мангуст; Б) куница; В) белка; Г) хорёк; Д) ласка.


6. В число четырёх великих изобретений, сделанных в Китае, не входит ...

А) компас; Б) книгопечатание; В) порох; Г) бумага; Д) современное написание цифр.

7. Эту страну с давних времен называют «страной восходящего Солнца».

А) Корея; Б) Китай; В) Россия; Г) Япония; Д) Вьетнам.

8. В дальневосточной тайге вы не встретите ...



9. Народы Азии не используют в качестве ездовых животных ...

- А) верблюдов; Б) слонов; В) оленей; Г) собак; Д) лам.

10. На рисунке Храм Неба – один из символов столицы страны, которую часто называют Поднебесной. Это – ...

- А) Индия; Б) Япония; В) Китай; Г) Корея; Д) Иран.




Задания, оцениваемые в 4 балла

11. Азию от Европы отделяет пролив ...

- А) Босфор; Б) Ла-Манш; В) Дрейка; Г) Санникова; Д) Кука.

12. Символом Японии считается цветок, изображённый на рисунке...



13. Пустынное растение саксаул не образует...

- А) корней; Б) стеблей; В) листьев; Г) цветков; Д) плодов.



14. На картине Николая Рериха изображена самая высокая горная вершина мира. Это ...

- А) Монблан; Б) Джомолунгма; В) Эльбрус;
Г) Килиманджаро; Д) Чогори.

15. Название важнейшей реки Китая Хуанхэ переводится как ... река.

- А) Чёрная; Б) Жёлтая; В) Голубая; Г) Красная; Д) Оранжевая.

16. В XVII–XIX веках в Европе китайских чиновников называли тем же словом, что и плод цитрусового растения. Это слово ...

- А) лимон; Б) апельсин; В) грейпфрут; Г) мандарин; Д) кумкват.



17. На бумажных куколках национальные костюмы ...

- А) Китая; Б) Индии; В) России; Г) Вьетнама; Д) Японии.


18. Западная Азия занимает ведущее положение в мире по запасам нефти, природного газа, асбеста, бурого и каменного угля. Какое из этих полезных ископаемых не является горючим?

- А) нефть; Б) природный газ; В) асбест; Г) бурый уголь; Д) каменный уголь.

19. На востоке Азии особенно ценят корень женьшеня. Он изображён на рисунке...



20. На протяжении веков многие народы, проживавшие в разных странах Азии, пекли и пекут хлеб в подобных печах.



Задания, оцениваемые в 5 баллов

21. Какая из азиатских стран не имеет выхода к океану?

- А) Индия; Б) Япония; В) Китай; Г) Таиланд; Д) Монголия.

22. Шанырак – круг, образующий потолок юрты, изображён на гербе Казахстана, а также на государственном флаге ...

- А) Китая; Б) Кыргызстана; В) Индонезии; Г) Камбоджи; Д) Вьетнама.



23. Многие знаменитые специи родом из Азии. Среди них:

- А) перец чили; Б) перец стручковый; В) настурция; Г) лавровый лист; Д) корица.

24. Одно из семи чудес света – сады Семирамиды – располагалось в ...

- А) Сабейском царстве; Б) Леванте; В) Междуречье; Г) Урарту; Д) Колхиде.

25. На картине Василия Васильевича Верещагина вы видите кочевника из ...

- А) азиатской тундры;
Б) Монголии;
В) Юго-Западной Азии;
Г) Тибета;
Д) Сибири.



26. Дальневосточный поэт Пётр Комаров пишет:


Весь день молчит суровая

Столетняя тайга.

У кедра обомшелого

Укрылась кабарга.

На какой фотографии изображена кабарга?



27. На севере Азии раз в году бывает полярная ночь. Полярная ночь – это...

А) период, когда солнце не появляется из-за горизонта не менее полугода;

Б) время, в которое спят полярники;

В) период, когда солнце не появляется из-за горизонта более месяца;

Г) время, когда охотятся полярные совы;

Д) период, когда солнце не появляется из-за горизонта более 24 часов.

28. Японский журавль, обитающий только в Азии, находится под угрозой полного исчезновения. Японский журавль – на фотографии ...



29. Какой из перечисленных географических объектов находится не в Азии?

А) самое большое озеро мира; Б) самое глубокое озеро мира; В) самая высокая гора мира;

Г) самая многоводная река мира; Д) самая глубокая впадина суши.

30. Герой нескольких романов Жюль Верна капитан Немо боролся за свободу своей родной страны, которая называется ...

А) Индия; Б) Япония; В) Китай; Г) Корея; Д) Иран.