

## ЧИП-2017 (Северная Америка)

7-8 классы

### Задания, оцениваемые в 3 балла

1. Северная Америка расположена ...  
А) большей частью в Северном полушарии;    Б) большей частью в Южном полушарии;  
В) наполовину в Южном полушарии;    Г) полностью в Северном полушарии;  
Д) полностью в Южном полушарии.

2. Этот континент не омывают воды Атлантического океана.  
А) Австралию;    Б) Африку;    В) Евразию;  
Г) Северную Америку;    Д) Южную Америку.

3. Норвежские мореплаватели впервые увидели острова северо-востока Северной Америки в ... веке.  
А) V;    Б) X;    В) XI;    Г) XIV;    Д) XV.


4. На фотографии – модель корабля «Санта-Мария», на котором Христофор Колумб совершил первое путешествие к берегам Америки. Корабль такого типа называется ...

- А) галера;    Б) галеон;    В) каравелла;    Г) каракка;    Д) фрегат.



4

5. На фотографиях – всемирно известные сооружения Северной Америки. Какое из них находится не в США?



А



Б



В



Г



Д

6. Это государство расположено на перешейке, соединяющем Северную и Южную Америку.  
А) Гондурас;    Б) Коста-Рика;    В) Панама;    Г) Никарагуа;    Д) Сальвадор.

7. Во время эпидемии дифтерии в 1925 году на Аляске лекарства в город Ном были доставлены эстафетой, названной впоследствии Великой гонкой милосердия. Ящик с сывороткой пять дней друг другу передавали экипажи, в упряжках которых бежали ...

- А) мустанги;    Б) ослы;    В) лошади;    Г) северные олени;    Д) собаки.

8. Безлесные высокотравные равнины с преобладанием злаков в Северной Америке называют ...

- А) пуштами;    Б) степями;    В) прериями;  
Г) пампасами;    Д) тундрами.



8

9. Какое пресноводное озеро самое большое на Земле по площади?

- А) Мичиган;    Б) Гурон;    В) Верхнее;    Г) Большое Невольничье;    Д) Большое Медвежье.


10. Жители Северной Америки ввели в культуру земледелия ...



А



Б



В



Г



Д

## Задания, оцениваемые в 4 балла

11. Нефть и продукты её переработки питают значительную часть экономики североамериканских стран. Самой тяжёлой и высококипящей фракцией, которая получается при прямой перегонке нефти, является ...

- А) мазут;    Б) бензин;    В) лигроин;    Г) керосин;    Д) дизельное топливо.

12. На флаге какого государства изображён символ свободы — птица кетцаль?

- А) Гватемала;    Б) Гондурас;    В) Канада;    Г) Панама;    Д) Куба.




13. Национальный парк Вуд-Баффало в Канаде знаменит тем, что на его территории обитает ...

- А) большое стадо бизонов;  
Б) большой табун мустангов;  
В) крупный прайд львов;  
Г) большое стадо бегемотов;  
Д) несколько саблезубых тигров.

14. Основной сельскохозяйственной культурой у ацтеков была ...

- А) пшеница;    Б) кукуруза;    В) картофель;    Г) киноа;    Д) рожь.

15. Какое из этих животных, предки которого вымерли в Северной Америке примерно 12 тысяч лет назад, появилось на континенте снова после переселения европейцев?



16. Какую ездовую собаку предпочитают жители Аляски для перевозки очень тяжёлых грузов по крепкому насту и льду северных территорий?

- А) сибирскую хаски;    Б) самоедскую собаку;    В) чукотскую ездовую;  
Г) якутскую лайку;    Д) аляскинского маламута.

17. Последний странствующий голубь был замечен в 1900 году. Ранее они образовывали огромные колонии. Что сыграло ведущую роль в их исчезновении?

- А) вырубка лесов;    Б) изменение климата;    В) применение пестицидов;  
Г) охота;    Д) недостаток пищи.


18. Самые высокие действующие вулканы Северной Америки расположены в ...

- А) Никарагуа;    Б) Мексике;    В) США;    Г) Коста-Рике;    Д) Гватемале.

19. Самое маленькое государство Северной Америки — это ...

- А) Антигуа и Барбуда;    Б) Барбадос;    В) Гренада;    Г) Доминика;    Д) Ямайка.

20. Какая птица была завезена в Америку в середине XIX века и прошла путь от большой любви населения до борьбы с ней как с вредителем?



### Задания, оцениваемые в 5 баллов

21. Именно эта гора до середины XIX века была высшей точкой России.  
А) Рейнир;      Б) Белуха;      В) Логан;      Г) Денали;      Д) Эльбрус.
22. Крупнейшая река на северо-западе Северной Америки — Юкон — впадает в ...  
А) Калифорнийский залив;      Б) Берингово море;      В) Гудзонов залив;  
Г) Баффинов залив;      Д) море Бофорта.
23. Листья фиалок, широко распространённых в Северной Америке, снабжены волосками. Какую функцию выполняют волоски?  
А) Отводят лишнее тепло.      Б) Служат для маскировки.  
В) Конденсируют влагу и уменьшают испарение.  
Г) Привлекают опылителей.      Д) Накапливают эфирные масла.
24. Какая горная система сохранилась на территории Северной Америки со времён формирования суперконтинента Пангея?  
А) Сьерра-Невада;      Б) Скалистые горы;      В) Береговые горы;  
Г) Лаврентийские горы;      Д) Аппалачи.
25. В одном из своих рассказов Джек Лондон писал: «В тот день спиртовой термометр Форта Юкон показывал семьдесят пять градусов ниже нуля, иначе говоря — сто семь градусов мороза...». О каких градусах идет речь?  
А) Фаренгейта;      Б) Цельсия;      В) Кельвина;      Г) Реомюра;      Д) Ранкина.
26. На протяжении веков из олова изготавливали тарелки и кружки, а также пуговицы, но потом от этого металла почти отказались. Почему?  
А) Из-за высокой стоимости изделий.      Б) Из-за большого веса изделий.  
В) Из-за оловянной чумы.      Г) Олово оказалось ядовитым.  
Д) Месторождения олова оказались исчерпанными.
27. На рисунке изображён древесный скорпион – одно из самых ядовитых животных в мире. Кто является его смертельным врагом?  
А) кузнечиковый хомячок;      Б) человек;  
В) венерина мухоловка;      Г) остроголовая змея;      Д) чёрная белка.



27

28. До 1867 года линия перемены дат отделяла северо-запад Северной Америки от остальной её части, так как ...  
А) 180-й меридиан отсекает от Северной Америки её северо-западную часть;  
Б) Аляска до этого года принадлежала России;  
В) это было удобно для торговцев пушниной;  
Г) на северо-западе располагалась огромная оффшорная территория;  
Д) местные эскимосы хотели жить на сутки раньше своих канадских сородичей.
29. «Три сестры» – название трёх основных сельскохозяйственных культур Северной Америки, взаимно полезных друг для друга. Какие растения входят в состав «трёх сестер»?  
А) овёс, соя, сахарный тростник;      Б) пшеница, чечевица, дыня;      В) морковь, капуста, лук;  
Г) картофель, томат, петрушка;      Д) тыква, кукуруза, фасоль.

30. Что произойдёт с чистой холодной водой, налитой в сосуд, который помещён в подогреваемую ёмкость с чистой кипящей водой (атмосферное давление таково, что чистая вода закипает при 100°C)? Вода в сосуде ...  
А) останется холодной;      Б) нагреется только до 50°C;  
В) нагреется до 100°C и не закипит;      Г) нагреется до 100°C и закипит;  
Д) нагреется выше 100°C.



30