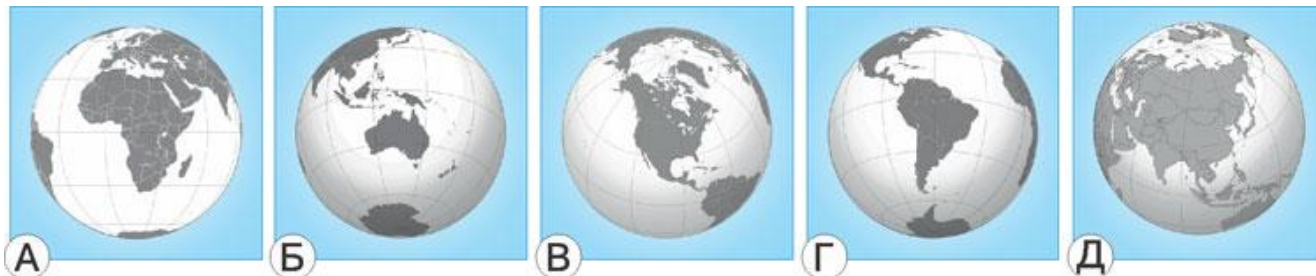


ЧИП-2019 (Африка)

3-4 классы

Задания, оцениваемые в 3 балла

1. На каком изображении глобуса видна вся Африка?



2. Какой океан находится между Африкой и Австралией?

А) Северный Ледовитый; Б) Атлантический; В) Индийский; Г) Тихий; Д) Южный.

3. Африка является самым ... континентом.

А) большим; Б) маленьким; В) дождливым; Г) холодным; Д) жарким.

4. Почти половину площади Африки занимает саванна. На какой фотографии она изображена?



6. С юга на север Египет пересекает одна из величайших рек мира ...


А) Конго; Б) Нил; В) Нигер;
Г) Оранжевая; Д) Лимпопо.



5. На фотографии самая высокая гора Африки ...

А) Стенли; Б) Кения; В) Килиманджаро;
Г) Спик; Д) Луиджи ди Савойя.

7. На гербах государств часто изображают растения, которые распространены на территории этого государства. На гербе какой страны изображён баобаб?



8. У Самуила Яковлевича Маршака есть такие строки:

*Рвать цветы легко и просто
Детям маленького роста,*

*Но тому, кто так высок,
Нелегко сорвать цветок!*

В стихотворении речь идёт о ...

- А) жирафе; Б) страусе; В) слоне; Г) горилле; Д) антилопе гну.

9. Кого из этих животных в Африке называют кораблём пустыни?



10. Самая крупная птица Африки – это ...

- А) гриф; Б) фламинго; В) колпица; Г) страус; Д) угод.

Задания, оцениваемые в 4 балла



11. Какие птицы построили эти гнезда?

- А) скворцы;
Б) ткачики;
В) перепела;
Г) совы;
Д) птицы-носороги.

12. Бегемоты ...

- А) неуклюжи как на суше, так и в воде;
Б) активно передвигаются в воде, но неуклюжи на суше;
В) медленно передвигаются в воде, но быстры на суше;
Г) способны развивать большую скорость как на суше, так и в воде;
Д) передвигаются только вплавь.

13. Хлебом пустыни в Африке называют ...

- А) пшеницу; Б) ячмень; В) финики; Г) плоды хлебного дерева; Д) кокосы.

14. Африканские страны ЮАР и Гана входят в число мировых лидеров по добыче драгоценного металла золота. Какой из перечисленных металлов также относится к драгоценным?

- А) медь; Б) алюминий; В) железо; Г) никель; Д) серебро.

15. На фотографии мы видим ... дерево.

- А) дынное;
Б) картофельное;
В) колбасное;
Г) пушечное;
Д) банановое.



16. У живущего на самом юге Африки очкового пингвина есть другое название — ослиный. С чем связано такое название?

- А) Очковые пингвины серые, как ослики. Б) У них длинные уши.
В) Они перемещаются на четырёх коротких ногах.
Г) Они упрямы, как ослы. Д) Издаваемые ими звуки похожи на крики ослов.

17. Самое большое по площади озеро Африки – это ...

- А) Чад; Б) Ньяса; В) Эдуард; Г) Виктория; Д) Руква.


18. В Древнем Египте в эпоху Птолемеев строили специальные корабли «элефантофоры» для перевозки ...

- А) слонов; Б) больших камней; В) войск;
Г) колесниц; Д) золота и драгоценных камней.

19. Это пустынное животное, которое в Южной Африке приручают и держат дома для ловли грызунов и змей, является прообразом известного мультипликационного героя Тимона.

- А) сурикат; Б) белка; В) суслик; Г) сурок; Д) обезьяна.

20. На какой фотографии изображён венценосный журавль, проживающий только на территории Африки?




Задания, оцениваемые в 5 баллов

21. Из Семи чудес света, самых прославленных сооружений Древнего Мира, в Африке был сооружён ...

- А) Колосс Родосский; Б) «висячие» сады Семирамиды; В) Александрийский маяк;
Г) статуя Зевса; Д) храм Артемиды.

22. Очень давно в Африке ввели в культуру растение, плоды которого многие любят.



23. Название бумаги во многих европейских языках связано с растением, которое выращивали в Древнем Египте.

- А) редька; Б) финиковая пальма; В) лён; Г) папирус; Д) хлопчатник.

24. Этот попугай считается самым способным «говоруном»: его речевой аппарат максимально похож на человеческий, а словарный запас может достигать 2000 слов.

- А) ара; Б) какаду; В) жако; Г) корелла; Д) кеа.

25. Любовь к украшению дамских шляпок перьями птиц в XVIII веке привела к появлению угрозы вымирания ...

- А) страусов; Б) фламинго; В) пеликанов; Г) зимородков; Д) удонов.

26. У многих народов Африки можно встретить барабан такого типа, который изначально использовали ...

- А) для вызывания дождя;
- Б) во время танцев;
- В) для сопровождения поющих;
- Г) для обмена информацией между деревьями;
- Д) отпугивания хищных животных.



27.

Маленькие дети!

Ни за что на свете

Не ходите в Африку,

В Африку гулять!

Так написал Корней Иванович Чуковский в сказке «Бармалей» и перечислил опасных для детей зверей. А какое из этих крупных и опасных животных не обитает в Африке?



А



Б



В



Г



Д

28. Какое дерево, произрастающее в африканских саваннах, в сезон дождей накапливает огромное количество воды, а в засушливый сезон расходует её и значительно «худеет»?

- А) акация; Б) пальма; В) кипарис; Г) баобаб; Д) гренадил.

29. Саранча, наносящая непоправимый урон сельскому хозяйству Африки, относится к ...

- А) насекомым; Б) паукообразным; В) ракообразным;
- Г) многоножкам; Д) панцирным.

30. Остров Мадагаскар известен тем, что ...

- А) он самый большой в мире;
- Б) его пересекает экватор;
- В) он весь покрыт ледяными пустынями;
- Г) на нём находится самый большой вулкан в мире;
- Д) на нём живёт много уникальных животных.