


ЧИП-2019 (Африка)


5-6 классы

Задания, оцениваемые в 3 балла

1. Какой континент отделяет Африку от Северного Ледовитого океана?
А) Антарктида; Б) Австралия; В) Северная Америка;
Г) Южная Америка; Д) Евразия.
2. Среди континентов Африка занимает по площади ... место.
А) 1; Б) 2; В) 3; Г) 4; Д) 5.
3. С севера Африку омывает ...
А) Северный Ледовитый океан; Б) Чёрное море; В) Индийский океан;
Г) Южный океан; Д) Средиземное море.
4. На гербах государств часто изображают животных, которые проживают на территории этого государства. На рисунках представлены гербы африканских стран, кроме одного. Какого?




5. Какое из этих животных самое быстрое?
А) антилопа; Б) буйвол; В) лев; Г) гепард; Д) зебра.
6. Длинная шея жирафу помогает ...
А) пить воду; Б) защищаться от насекомых, В) поесть листву на верхушках деревьев;
Г) прятать голову в песок от солнца; Д) быстро бегать.
7. Какой из этих пейзажей французский художник Пьер Огюст Ренуар создал в Алжире?



8. Название этой страны произведено от названия её столицы.
А) Алжир; Б) Египет; В) Ангола; Г) Кот-д'Ивуар; Д) Нигерия.
9. Один из этих островов Африки входит в число крупнейших островов мира.
А) Сокотра; Б) Занзибар; В) Реюньон; Г) Маврикий; Д) Мадагаскар.

10. Этого обитателя африканских саванн называют хозяином Африки.



Задания, оцениваемые в 4 балла

11. Африканские страны ЮАР и Гана являются одними из мировых лидеров по добыче золота. Какая отрасль промышленности является основным потребителем золота?

- А) химическая; Б) медицинская; В) пищевая;
Г) ювелирная; Д) сельскохозяйственная.

12. На чём знаменитый путешественник Тур Хейердал отправился из Марокко в Америку, чтобы подтвердить возможность пересечения Атлантического океана задолго до викингов и Колумба?



13. Каждый год, в середине августа, на протяжении двух недель в Египте празднуют ...

- А) наступление Нового года; Б) начало сбора урожая;
В) основание государства; Г) победу под Эль-Аламейном;
Д) половодье Нила.

14. Какова в природе обычная пища трубкозубов, дальних сородичей слонов?

- А) мёд диких пчёл; Б) листья;
В) плоды деревьев; Г) термиты;
Д) молоко других млекопитающих.



15. Какое растение служит сырьем для изготовления папируса?

- А) цикас; Б) циссус; В) цереус; Г) циперус; Д) цикламен.



16. У всех африканских львов, обитающих в саванне, под глазами есть белые пятна. Они помогают ...

- А) маскироваться;
Б) лучше видеть ночью;
В) лучше видеть днём;
Г) приманивать добычу;
Д) привлекать других львов.

17. Самая южная точка Африки – это ...


- А) мыс Бланко (Бен-Секка); Б) мыс Игольный; В) мыс Доброй Надежды;
Г) мыс Альмади; Д) мыс Рас-Хафун.

18. Что общего между названием горного массива Атлас и географическим атласом?

- А) Оба названия связаны с титаном Атласом.
- Б) В каждом географическом атласе показан Атлас.
- В) Название «географический атлас» происходит от названия гор.
- Г) Название гор происходит от названия «географический атлас».
- Д) Горы Атлас и географические атласы никак не связаны.



19. В какой природной зоне Африки можно встретить литопсы или «живые камни»?



20. На экваторе время от времени солнце оказывается точно над головой наблюдателя, при этом тень практически отсутствует. Сколько раз в год это происходит?

- А) 1;
- Б) 2;
- В) 3;
- Г) 4;
- Д) 8.

Задания, оцениваемые в 5 баллов



21. В разных городах и сёлах Египта можно увидеть подобные сооружения. Кто в них живёт?

- А) крестьяне;
- Б) козы;
- В) курицы и петухи;
- Г) термиты;
- Д) голуби.

22. Вся Африка находится в пределах очень тёплых природных поясов, тем не менее в одной из её частей есть колонии пингвинов. Они обитают в ...

- А) Северной Африке;
- Б) Западной Африке;
- В) Южной Африке;
- Г) Восточной Африке;
- Д) Центральной Африке.

23. Какая из этих птиц питается змеями?

- А) птица-носорог;
- Б) птица-лира;
- В) птица-мышь;
- Г) птица-секретарь;
- Д) птица-палач.

24. Что изображено на этой средневековой карте?


- А) Мозамбикский пролив;
- Б) Баб-эль-Мандебский пролив;
- В) Гибралтарский пролив;
- Г) Суэцкий канал;
- Д) Острова Зелёного мыса.



25. Какой цвет не используется в названии притоков и участков реки Нил?

- А) оранжевый;
- Б) белый;
- В) голубой;
- Г) жёлтый;
- Д) чёрный.

26. Голос какого животного африканских саванн не различим для человеческого уха?



27. Странствуя по Африке, герои романа Жюль Верна «Пятнадцатилетний капитан» увидели сотни палаток конической формы, расположенных симметричными рядами. Их высота достигала 4–5 метров, но людей около них не было. Это были ...

- А) брошенные во время наводнения хижины; Б) термитники;
В) постройки птиц-печников; Г) грязевые вулканы; Д) голубятни.

28. Ещё век назад крокодилы жили в центральных частях Сахары. Как они могли существовать в пустыне?

- А) Крокодилы способны впасть в летнюю спячку в укрытиях.
Б) В сухое и жаркое время мигрируют в более влажные районы.
В) Живут без воды.
Г) Уменьшили потери воды до нуля.
Д) Перешли к растительной жизни.

29. Антилопа бонго обитает в лесах Африки. Как ведут себя антилопы бонго во время сухого периода?

- А) мигрируют в горные леса; Б) уходят к рекам;
В) перемещаются в саванны; Г) переселяются поближе к людям;
Д) расходятся по оазисам.



30. Колючки, образующиеся на разных органах растений Африки, не могут служить для ...

- А) распространения плодов и семян;
Б) защиты от поедания животными;
В) защиты поверхности растений от ярких лучей солнца;
Г) конденсации водяного пара;
Д) удаления излишней жидкости.