

ЧИП-2019 (Австралия и Океания)
2-е классы

Задания, оцениваемые в 3 балла



1. Какой цифрой на карте обозначена Австралия?

- А) 1; Б) 2; В) 3; Г) 4; Д) 5.

2. Какой океан разделяет Австралию и Африку?

- А) Северный Ледовитый; Б) Атлантический; В) Индийский; Г) Тихий; Д) Южный.

3. Какой из этих государственных флагов принадлежит Австралии?



4. «Они ушами двигают,
На задних лапах прыгают

И держат равновесие
При помощи хвоста...»

О каком австралийском животном пишет поэт Владимир Безладнов?




5. Столицей Австралии является город ...

- А) Канберра; Б) Мельбурн; В) Сидней; Г) Аделаида; Д) Веллингтон.

6. Основным видом транспорта для экспорта продукции сельского хозяйства и промышленности из Австралии является ...

- А) воздушный; Б) морской; В) железнодорожный; Г) автомобильный; Д) гужевой.

7. На какой фотографии изображены эвкалипты?



Задания, оцениваемые в 4 балла

8. На рисунках — дети разных народов мира в национальных костюмах. На каком рисунке изображены дети одной из стран Океании?



9. Австралия является самым ... континентом.

- А) большим; Б) холодным; В) жарким; Г) сухим; Д) влажным.

10. Какая из этих рек протекает по территории Австралии?

- А) Ангара; Б) Муррей; В) Нил; Г) Амазонка; Д) Дунай.

11. Австралия производит сахар в основном из



12. Наступление Нового года в Австралии празднуют ...


- А) весной; Б) летом; В) осенью; Г) зимой; Д) каждый год по-разному.

13. На фотографии австралийские аборигены ...

- А) добывают огонь;
Б) сверлят отверстие в копые;
В) затачивают копыё;
Г) запускают волчок;
Д) подготавливают шерсть для прядения.



14. Какой из этих театров расположен в Австралии и стал одной из главных достопримечательностей континента?



Задания, оцениваемые в 5 баллов

15. Австралия является мировым лидером по производству

- А) шерсти; Б) риса; В) пшеницы; Г) молока; Д) кукурузы.

16. Самая крупная птица Австралии – это ...




17. Коала — одно из самых знаменитых австралийских животных, которое содержат редко в зоопарках, так как ...

- А) это запрещено;
Б) посетители закармливают зверей;
В) коалы очень часто сбегают;
Г) питаются они только листьями некоторых видов эвкалиптов;
Д) коалы нервничают, видя толпы посетителей.



18. Австралийские аборигены использовали и используют в своей жизни и искусстве образные символы, которыми обозначают что-то важное для себя. Символ какого животного изображён на рисунке?



19. Почему многие австралийские пляжи в воде огорожены сетками?

- А) Чтобы пловцы не заплывали очень далеко.
Б) Для отлова мусора.
В) Сетки являются препятствиями для сёрферов.
Г) Для защиты от больших акул.
Д) Сетки являются пограничными заграждениями.

20. На фотографии изображена традиционная лодка полинезийцев, внешняя часть которой добавлена для ...

- А) ловли рыбы;
Б) перевозки детей;
В) отпугивания акул;
Г) упрощения постановки паруса;
Д) повышения устойчивости.

