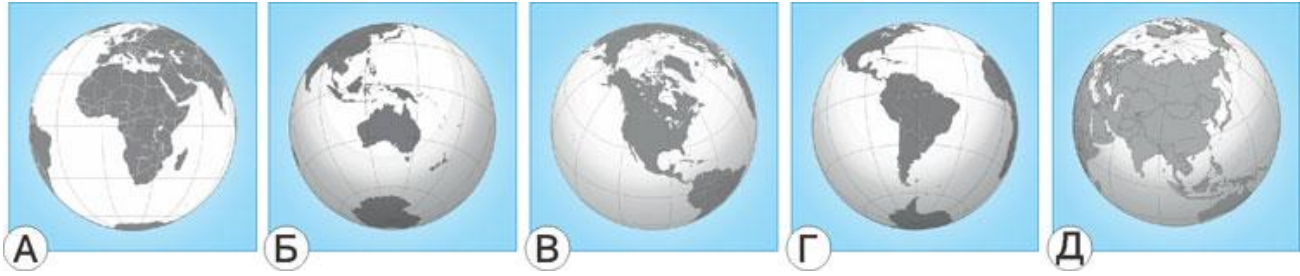


ЧИП-2019 (Австралия и Океания)
3-4 классы

Задания, оцениваемые в 3 балла

1. На каком изображении глобуса видна Австралия полностью?



2. Какой океан разделяет Австралию и Америку?


- А) Северный Ледовитый; Б) Атлантический; В) Индийский; Г) Тихий; Д) Южный.

Ответ: Г

3. Австралия – самый ... континент.

- А) большой; Б) холодный; В) жаркий; Г) маленький; Д) влажный.

4. Какое из этих животных изображено на гербе Австралии?



5. Самая большая река Австралии – это ...

- А) Дарлинг; Б) Купер-Крик; В) Лаклан; Г) Маррамбиджи; Д) Муррей.

6. Знаменитый русский этнограф и путешественник Николай Миклухо-Маклай, изучавший коренное население Австралии и Океании, сделал много рисунков в своих дневниках.

На каком рисунке, сделанном Миклухо-Маклаем, изображён абориген Новой Гвинеи?



7. Австралийский математик Питер Холлоран придумал самый массовый в мире игровой конкурс для школьников ...

- А) «Медвежонок»; Б) «Кенгуру»; В) «Золотое руно»; Г) «Бобёр»; Д) «КИТ».

8. Самый большой остров Океании – это ...

- А) Новая Каледония; Б) Тасмания; В) Южный остров Новой Зеландии;
Г) Новая Гвинея; Д) Северный остров Новой Зеландии.

9. На какой из этих фотографий изображена австралийская птица лирохвост?



10. Австралия является родиной большинства видов ...

- А) дубов; Б) сосен; В) пальм; Г) эвкалиптов; Д) баобабов.

Задания, оцениваемые в 4 балла

11. В Новой Гвинее несколько тысяч лет назад ввели в культуру ...

- А) персики; Б) апельсины; В) бананы; Г) авокадо; Д) черешню.

12. Учебный год у австралийских школьников начинается в ...

- А) январе-феврале; Б) апреле-мае; В) июне-июле; Г) сентябре-октябре;
Д) ноябре – декабре.

13. На фотографии – уникальное здание оперного театра, построенного в городе ...

- А) Канберра; Б) Мельбурн; В) Сидней;
Г) Аделаида; Д) Веллингтон.



14. Самой высокой горой Австралии является гора ...

- А) Косцюшко Б) Твинэм; В) Таунсенд; Г) Гунгартан; Д) Джагунгал.

15. На Австралийских пляжах можно встретить такой знак.

О чём он предупреждает?

- А) В водах встречаются медузы, охраняемые государством.
Б) О возможности встречи со смертельно опасными медузами.
В) О запрете фотографировать медуз и осьминогов.
Г) О запрете вылова осьминогов.
Д) О запрете вылова медуз.



16. Австралия занимает второе место в мире по добыче ...

- А) золота; Б) серебра; В) алмазов; Г) янтаря; Д) рубинов.

17. Самая маленькая страна Океании – это ...

- А) Вануату; Б) Науру; В) Самоа; Г) Фиджи; Д) Новая Зеландия.

18. На фотографии изображён молох – ящерица, которая обитает в Австралии в зоне ...

- А) влажных лесов;
Б) вечнозелёных жестколистных лесов;
В) смешанных лесов;
Г) саванн и редколесий;
Д) пустынь и полупустынь.



19. Австралийские аборигены использовали и используют в своей жизни и искусстве образные символы, которыми обозначают что-то важное для себя. На рисунке символ ...

- А) паука; Б) медового муравья; В) скорпиона;
Г) коалы; Д) варана.



20. Это австралийская птица является одной из самых опасных для человека.



А КАЗУАР



Б ЭМУ



В НАНДУ



Г ВЕНЦЕНОСНЫЙ
ЖУРАВЛЬ



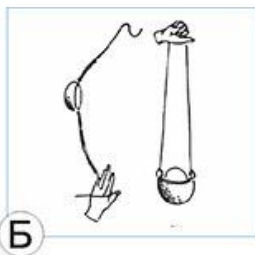
Д ФЛАМИНГО

Задания, оцениваемые в 5 баллов

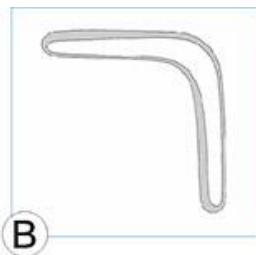
21. «Один из туземцев, захватив какое-то оружие своеобразной формы, выкрашенное в красный цвет ... направился к тому месту, над которым виднелась стая какаду», — так Жюль Верн описывает в книге «Дети капитана Гранта», как австралийские аборигены охотятся на птиц с помощью...



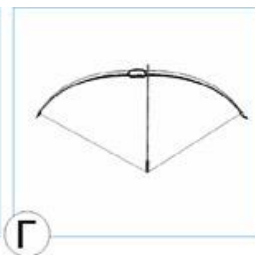
А



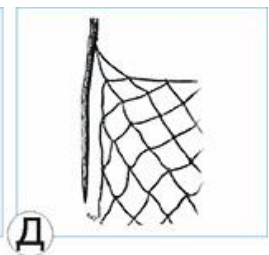
Б



В



Г



Д

22. История знает несколько примеров, когда строились защитные сооружения огромной длины. «Великая Австралийская стена» протяженностью более пяти тысячи километров предназначена для ...

- А) обозначения территории обитания аборигенов; Б) защиты полей от набегов кенгуру;
В) огораживания национальных парков; Г) снегозадержания в зимнее время года;
Д) защиты домашнего скота от собак динго.

23. Частью Большого Водораздельного хребта Австралии являются

- А) Голубые горы; Б) Жёлтые горы; В) Белые горы; Г) Зелёные горы; Д) Розовые горы.

24. На картине Эдвина Стоккелера, написанной в середине XIX столетия, мы видим ...

- А) уборку урожая;
Б) сооружение железной дороги;
В) закладку нового города в Австралии;
Г) эпизод австралийской золотой лихорадки;
Д) туристов на привале.



25. На севере Австралии среди крокодилов самым распространённым является гребнистый крокодил. Почему?

- А) Он может жить в солёной воде. Б) Его расселил человек.
В) Он может переплывать с острова на остров на бревнах.
Г) Он расселился широко, когда уровень воды в океане был низким.
Д) Его яйца переносит перелётные птицы.

26. Популярный в последние десятилетия музыкальный инструмент носит гавайское название "укулеле" (скачущая блоха). Это разновидность ...



27. Недалеко от Сиднея есть знаменитая Горящая гора, которая получила такое название, потому что ...

- А) у неё потрясающий вид на закате;
- Б) на ней постоянно горит лес;
- В) осенью на ней «попыхают» листья деревьев;
- Г) почва на горе ярко-красного цвета;
- Д) на горе в песчанике тлеют и дымятся угли.

28. На северо-западе Австралии есть очень заметная «дырка» диаметром 875 метров и 60 метров глубиной. Это ...

- А) жерло гигантского гейзера;
- Б) кратер потухшего вулкана;
- В) алмазный карьер;
- Г) высохшее водохранилище;
- Д) метеоритный кратер.



29. В Австралии в настоящее время ...

- А) нет действующих вулканов;
- Б) самый большой действующий вулкан мира;
- В) много действующих вулканов;
- Г) часто появляются новые вулканы;
- Д) около десятка действующих вулканов.

30. Основным видом транспорта для перевозок грузов по центральной части Австралии является ...

- А) железнодорожный;
- Б) автомобильный;
- В) водный;
- Г) воздушный;
- Д) гужевой.