

ЧИП-2019 (Австралия и Океания)
5-6 классы

Задания, оцениваемые в 3 балла



1. Австралия находится в ... полушариях.

- А) Северном и Южном; Б) Южном и Восточном;
В) Северном и Западном; Г) Северном и Восточном;
Д) Южном и Западном.

2. Берега Австралии омывают ... океаны.

- А) Тихий и Индийский; Б) Атлантический и Северный Ледовитый;
В) Тихий и Атлантический; Г) Тихий и Северный Ледовитый;
Д) Индийский и Атлантический.

3. У А. Усачева читаем:

*Зброшена Австралия почти на край земли,
Поэтому Австралию не так давно нашли.*

Австралия была открыта европейцами в ...

- А) XV веке; Б) XVI веке; В) XVII веке; Г) XVIII веке; Д) XIX веке.

4. На флаге какой страны Океании изображена линия, символизирующая экватор?



5. Название региона — Океания — основано на мифологии ...

- А) Древней Греции; Б) древних германцев; В) полинезийцев;
Г) австралийских аборигенов; Д) Древнего Китая.

6. На переднем плане картины знаменитого австралийского художника Альберта Наматжиры изображены ...

- А) березы; Б) эвкалипты; В) сосны;
Г) дубы; Д) клёны.



7. Большую часть территории Австралии занимают ...


- А) горы; Б) пустыни; В) леса; Г) реки и озёра; Д) саванны и редколесья.

8. В стихотворении Людмилы Громовой читаем:

*Необычный материк,
Хоть и ростом невелик.
Сумчатых зверюшек*

*Здесь живет немало:
Белки, крысы, кенгуру
И медведь коала.*

О каком из этих сумчатых животных Австралии не говорится в стихотворении?




9. Какую страну на карте Европы напоминает Новая Зеландия?

- А) Финляндию; Б) Францию; В) Германию;
Г) Данию; Д) Италию.




10. В XIX веке эти животные, завезённые в Австралию из Европы первыми колонистами, были выпущены на волю как объект охоты, но вскоре их массовое размножение привело к экологической катастрофе.



А



Б



В



Г



Д

Задания, оцениваемые в 4 балла

11. Атолл — это остров (группа островов), появившийся в результате ...

- А) вулканической активности; Б) деятельности коралловых полипов;
В) активности человека; Г) деятельности плеченогих; Д) выноса песка рекой.

12. Один из самых популярных видов домашних животных происходит из Австралии.



А

ВОЛНИСТЫЙ
ПОПУГАЙЧИК



Б

КОШКА



В

МОРСКАЯ
СВИНКА



Г

КАНАРЕЙКА



Д

ЗОЛОТАЯ
РЫБКА

13. Это растение изображено на гербе Австралии и является её официальным цветочным символом.

- А) эвкалипт; Б) золотая акация; В) карри; Г) джарра; Д) трава кенгуру.

14. С этим континентом Австралия имеет сухопутную границу.

- А) Евразия; Б) Южная Америка; В) Африка;
Г) Антарктида; Д) ни с одним из них.

15. В Новой Гвинее несколько тысяч лет назад в культуру ввели ...



А

ПШЕНИЦУ



Б

РОЖЬ



В

РИС



Г

САХАРНЫЙ
ТРОСТНИК



Д

РЕПУ

16. Большинство рек Австралии ...

- А) впадает в Тихий океан; Б) берёт своё начало в озёрах; В) течёт с юга на север;

Г) пересыхает в засушливый период; Д) пересекает материк через его центр.

17. Если сложить все паруса крыши Сиднейского оперного театра, то получится идеальная сфера. Архитектора театра Йорна Утзона вдохновила форма...

А) мыльных пузырей; Б) яйца; В) апельсина;
Г) перекасти-поле; Д) капли воды во время дождя.



18. Что не входит в список основных сельскохозяйственных продуктов, экспортируемых Австралией?

А) шерсть; Б) рис; В) пшеница; Г) мясо; Д) сахар.

19. Самый южный на Земле город-миллионер - это ...

А) Аделаида; Б) Брисбен; В) Мельбурн;
Г) Перт; Д) Сидней.



20. На фотографии – знаменитый четырёхступенчатый водопад Австралии, расположенный в Национальном парке на одноимённой реке. Это водопад ...

А) Уолламан; Б) Джим-Джим; В) МакКензи;
Г) Митчелл; Д) Фицрой.

Задания, оцениваемые в 5 баллов

21. В некоторых пещерах Новой Зеландии есть такая подсветка. Это ...

А) светодиодные светильники; Б) дырочки в потолке пещеры;
В) светящиеся грибы; Г) светящиеся лягушки;
Д) личинки грибных комариков.



22. Подземные части этого растения — самая обычная пища жителей Океании.

А) картофеля; Б) топинамбура; В) кольраби; Г) таро; Д) дряквы.

23. Полинезия — одна из трёх частей Океании, объединяющая группу островов. Её название связано с тем, что ...

А) большинство островов — крупные; Б) большинство островов — мелкие;
В) островов немного; Г) островов очень много;
Д) большинство островов вулканического происхождения.

24. На фотографии австралийские аборигены чинят

А) ловушку для рыбы;
Б) палатку;
В) ловушку для саранчи;
Г) ловушку для кроликов;
Д) сачок для бабочек.



25. Оказавшись в эвкалиптовом лесу, герои романа Жюль Верна «Дети капитана Гранта» обнаружили, что «...если под этими зелёными сводами тень не густа и отсутствует полумрак, то это является своеобразной особенностью листьев этого дерева». У эвкалипта ...

А) листья с дырочками; Б) листья очень маленькие;
В) листья повернуты к солнцу ребром;
Г) листья полупрозрачные; Д) листьев вообще нет.

26. Северный остров Новой Зеландии, Исландию, Камчатку и Йеллоустон объединяет то, что ...
- А) это всё острова;
 - Б) все эти территории находятся в Северном полушарии;
 - В) все эти территории находятся в Западном полушарии;
 - Г) там растут берёзы; Д) там есть крупные гейзерные поля.




27. Это один из основных источников сахаров для многих групп австралийских аборигенов.

- А) пчелиные соты; Б) выделения акаций;
- В) медовые муравьи; Г) выделения тлей;
- Д) ягоды крыжовника.

28. Самый большой вулкан на Земле – это ...
- А) Мауна Лоа; Б) Килауэа; В) Килиманджаро; Г) Везувий; Д) Ключевская сопка.

29. Моаи, наверное, самые известные произведения искусства полинезийцев. Это ...



А РИТУАЛЬНЫЕ ТАТУИРОВКИ




Б БОЛЬШИЕ КАМЕННЫЕ СТАТУИ



В ДЕРЕВЯННЫЕ ФИГУРЫ



Г ПЛЕТЁНЫЕ ЦИНОВКИ



Д РИСУНКИ НА СКАЛАХ

30. Австралийские аборигены использовали и используют в своей жизни и искусстве образные символы, которыми обозначают что-то важное для себя. На рисунке символ ...

- А) радуги; Б) воздушного вихря; В) солнца;
- Г) лестницы; Д) родника.

